
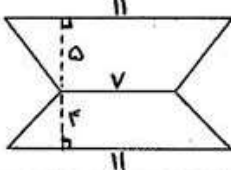


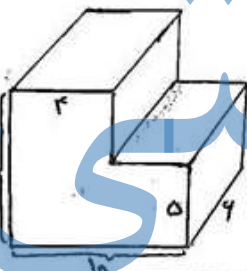
بسمه تعالی

نام و نام خانوادگی:..... مدیریت آموزش و پرورش شهرستان تنگستان شماره دانش آموز:..... دیستان ابن سینا اهرم	کلاس: پنجم تاریخ: ۱۴۰۰/۱۰/۱۵ آزمون: ریاضی
۱ الف) عدد پانزده میلیارد و دویست و هشت میلیون و سی هفت هزار و شش را با رقم بنویسید. ب) عدد ۲۷۰۰۵۰۰ از ..... تا یک میلیون و ۷ تا ..... و ۵ تا ..... ساخته شده است.	
۲ جمع و تفریق اعداد مرکب زیر را انجام دهید.	
$\begin{array}{r} ۳۸'' \\ ۲۴' \\ ۶ \end{array} + \begin{array}{r} ۴۱'' \\ ۳۱' \\ ۴ \end{array}$	$\begin{array}{r} ۳۵'' \\ ۲۹' \\ ۸ \end{array} - \begin{array}{r} ۵۷'' \\ ۱۸' \\ ۲ \end{array}$

۳ حاصل عبارت های زیر را به دست آورید.	
$۲\frac{۲}{۵} + ۱\frac{۲}{۱۰} =$ $۱\frac{۲}{۳} + ۱\frac{۱}{۵} =$ $۷ - ۳\frac{۲}{۴} =$ $۵\frac{۱}{۴} - ۲\frac{۱}{۱۲} =$ $۶ \times \frac{۴}{۲۵} =$ $۴\frac{۱}{۵} \times ۲\frac{۱}{۳} =$ $۶ \div \frac{۱}{۹} =$	$\frac{۲}{۱۲} \times \frac{۴}{۹} =$ $\frac{۱}{۶} \div ۲ =$
۴ برای ساختن یک نوع بتن، ۷ پیمانه ماسه را با ۲ پیمانه سیمان مخلوط می کنند. در ۱۸۹ پیمانه از این مخلوط، چند پیمانه ماسه و چند پیمانه سیمان وجود دارد؟	
۵ ۷۰٪ دانش آموزان یک کلاس ۱۴ نفر است. تعداد دانش آموزان این کلاس چند نفر است؟	

۶ حاصل جمع و تفریق زیر را به دست آورید.	
$\begin{array}{r} ۸ / ۲۷ \\ + ۳ / ۹۳۵ \end{array}$	$\begin{array}{r} ۱۲ / ۴ \\ - ۵ / ۲۸ \end{array}$

۷	<p>در شکل های زیر اندازه ی زاویه ی خواسته شده را به دست آورید.</p> 
۸	<p>حاصل ضرب های زیر را به دست آورید.</p> $.۳ \times ۳۰۰ =$ $.۴ \times ۱۰ =$ $۴/۱ \times ۰/۸ =$ $.۳ \times ۰/۰۷ =$
۹	<p>مساحت شکل زیر را به دست آورید.</p> 
۱۰	<p>رویای می خواهد دور یک رومیزی که به شکل دایره است، نوار بدوزد. اگر شعاع آن رومیزی ۱/۵ متر باشد، او به چند متر نوار نیاز دارد؟</p>

۱۱	<p>حجم شکل زیر را پیدا کنید. (همه ی اندازه ها بر حسب سانتی متر است.)</p> 
۱۲	<p>الف) میانگین اعداد ۱۸، ۱۹، ۲۰ و ۲۷ را به دست آورید.</p> <p>ب) در موارد زیر از عبارات مناسب (به احتمال بیشتر، به احتمال کمتر، به احتمال برابر، به طور حتم اتفاق می افتد، به طور حتم اتفاق نمی افتد) استفاده کنید.</p> <p>۱) احتمال اینکه در پرتاب تاس عدد ۷ بیاید.</p> <p>۲) احتمال اینکه در پرتاب تاس عدد فرد بیاید.</p> <p>۳) احتمال اینکه بعد از روز، شب بیاید.</p>

موفق باشید